



موسسه آموزشی راه تازه کودکان دنیا

آمادگی و دبستان دخترانه غیردولتی

سرپرست

نام و نام خانوادگی :

آزمون ریاضی

پایه دوم

۱- حاصل جمع و تفریق های زیر را با روش های خواسته شده به دست آورید.

$$3 + 0 + 8 = \text{(محور)}$$

$$6 + 6 + 6 = \text{(چوب خط)}$$

$$17 - 9 = \text{(به رسم شکل)}$$

$$7 + 8 = \text{(جمع دو قلو)}$$

$$8 + 6 = \text{(به ده رساندن)}$$

۲- همه ی عددهای دو رقمی را بنویسید که رقم یکان آن ۳ و ۵ و رقم دهگان ۶ و ۴ باشد.

۳- جمع و تفریق زیر را به روش گسترده نویسی انجام دهید؟

$$\begin{array}{r} 78 \\ - 35 \\ \hline \end{array}$$

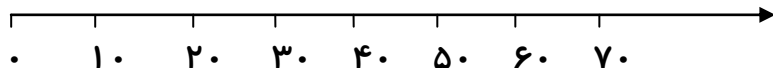
$$\begin{array}{r} 64 \\ + 22 \\ \hline \end{array}$$

۴- یک مسئله بنویس که حل آن $12 = 8 + 4$ باشد .

.....
.....

۵- محور و جای خالی را کامل کن .

$$\begin{array}{r} 60 \\ - \square \\ \hline 40 \end{array}$$



۶- الف) رقم یکان عدد ۴۷۵ چیست؟ از کجا فهمیدی؟

ب) رقم صدگان عدد ۸۷۷ چیست؟ از کجا فهمیدی؟


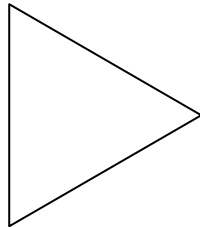
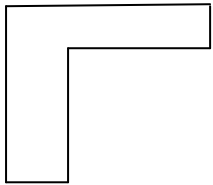
۷- یک مثلث و یک شش ضلعی رسم کنید و تفاوت و شباهت آن را بنویسید. (دو مورد)

شباهت :

تفاوت :

۸- خط تقارن را تعریف کنید و برای شکل های زیر خط تقارن رسم کنید.

تعریف خط تقارن :



۹- کامل کنید.

واحد پول کشور ما است.

۱۰۰ سکه ۱ ریالی برابر است با سکه ریالی.

سه دسته صدتایی و می شود ۷ دسته ی صدتایی یعنی

به پول فلزی و به پول کاغذی می گویند.

۱۲ سانتی متر و ۶ میلی متر همان میلی متر است.

۱۷ میلی متر = سانتی متر و میلی متر

۱۰- عددها را با حذف رقم یکان و دهگان تقریب بزیند و جمع یا تفریق کنید.

$$\begin{array}{r} 405 \\ + 183 \\ \hline \end{array}$$

$$\begin{array}{r} 950 \\ - 407 \\ \hline \end{array}$$



۱۱- ساعت روبرو چند است ؟

چند ربع از ساعت ۴ گذشته است ؟

چند ربع به ساعت ۵ مانده است ؟

۱۵ دقیقه بعد ساعت چند است ؟

۱۲- یک باغدار از باغ خود ۳۵۶ کیلو نارنگی و ۳۴۸ کیلو پرتقال را برداشت کرده است. اودر کل چند کیلو محصول برداشت کرده است؟

اگر او ۲۵۰ کیلو از محصول خود را بفروشد چند کیلو محصول برایش باقی می ماند؟

۱۳- علامت $< = >$ بگذارید .

$$۲۰۰ + ۳۰ + ۱۰ + ۵۰ \bigcirc ۲۰۰ + ۳۰ + ۵ \quad - \quad ۱۱۰ \bigcirc ۱۱۱ \quad - \quad ۷۸۰ - ۸۰ \bigcirc ۷۰۰ \quad - \quad ۸۵۰ \bigcirc ۸۵$$

۱۴- با توجه به سوال داده شده مسئله ای بنویسید و حل کنید.

.....

.....

الف) زهرا چند تومان پول دارد؟

ب) چند ریال برایش باقی مانده است؟

۱۵- حاصل جمع زیر را به روش تکنیکی و به کمک شکل بدست آورید.

۲۷۴

+ ۱۲۶
